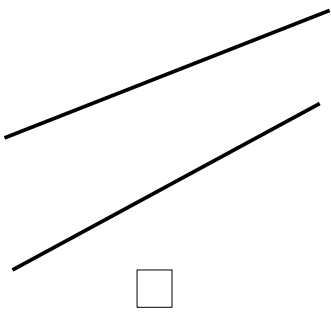
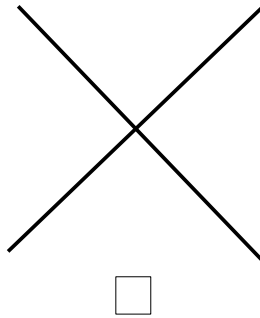


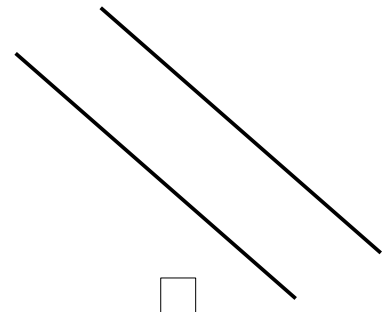
Les droites parallèles

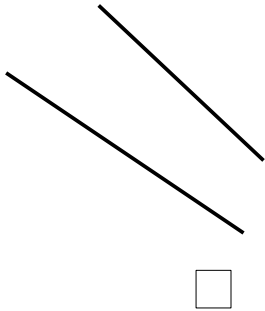
CM1

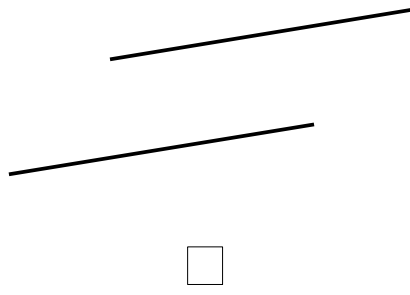
1 Coche la case si les paires de droites sont parallèles.

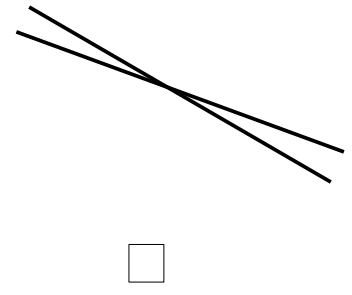




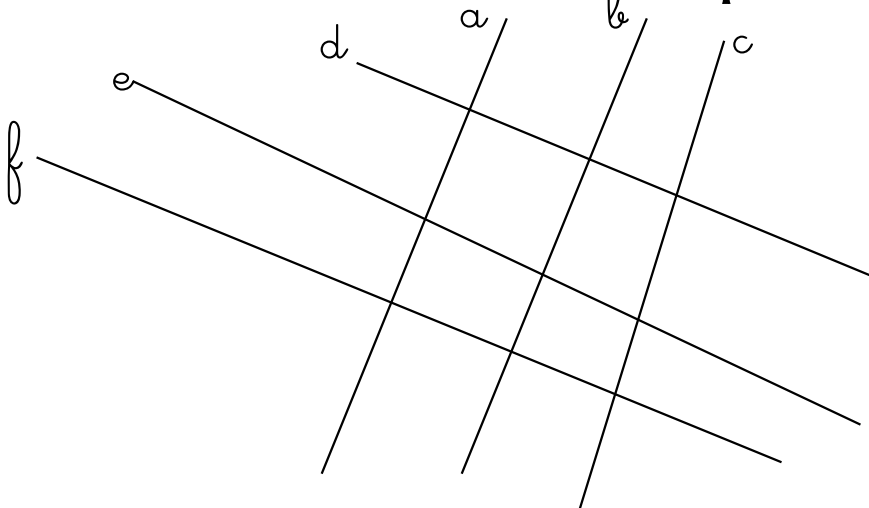








2 Vrai ou Faux ? Ces droites sont-elles parallèles ?



Les droites (b) et (c) sont parallèles.

Les droites (d) et (f) sont parallèles.

Les droites (e) et (f) ne sont pas parallèles.

Les droites (a) et (b) ne sont pas parallèles.

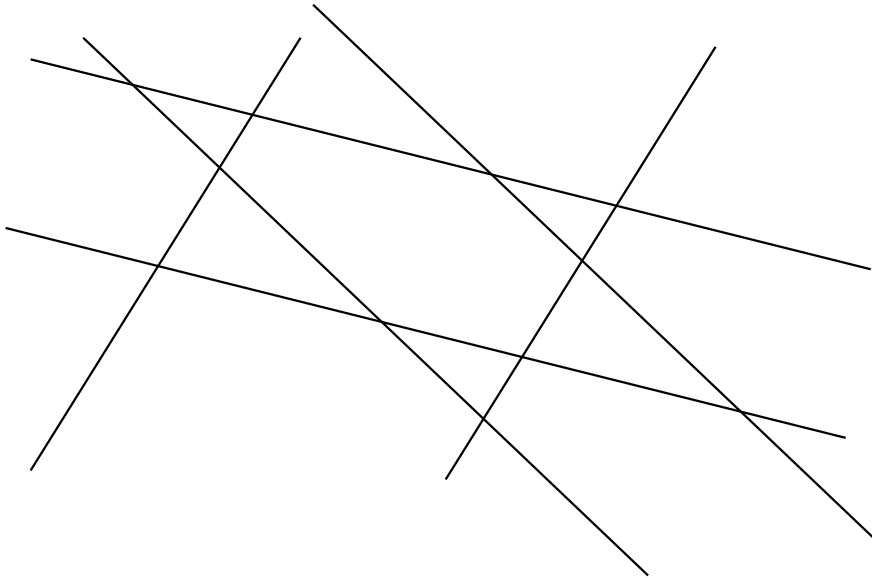
Nom :

Date :


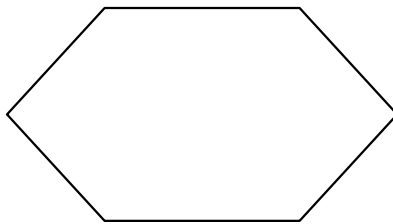
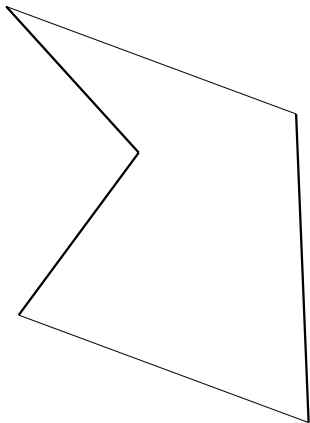
Les droites parallèles

CM1

1 Repasse de la même couleur les droites parallèles entre elles.



2 Repasse de la même couleur les côtés de ces figures qui sont parallèles.



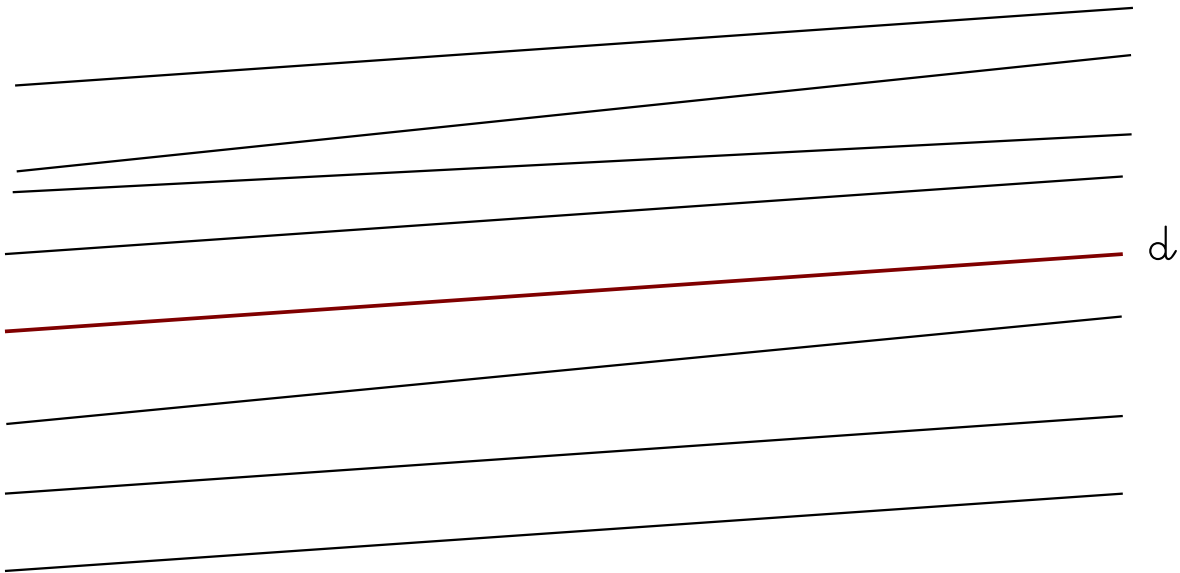
Nom :

Date :

Les droites parallèles

CM1

1 Repasse en bleu les droites parallèles à la droite (d)

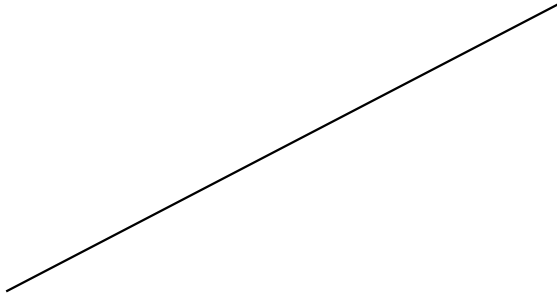


2 Trace 2 droites parallèles distantes de 3 cm.

Les droites parallèles

CM1

1 Trace une droite parallèle à la droite (d).

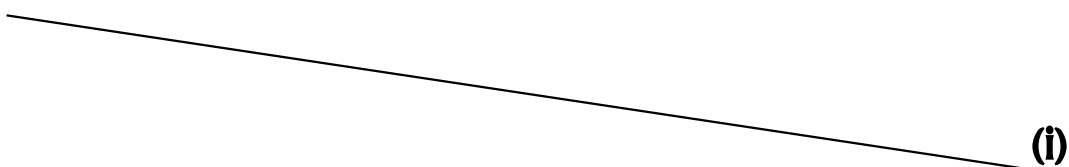


2 Trace une droite parallèle à (c). L'écart entre les 2 droites doit être de 4 cm.



3 Trace une droite parallèle à la droite (i) passant par J.

J
X



Nom :

Date :

Les droites parallèles

CM1

① Trace une droite parallèle à la droite (l) . L'écart entre les 2 droites doit être de 3 cm.

② Trace une droite (d).
Place un point A qui n'est pas sur la droite (d).
Trace une droite parallèle à la droite (d) passant par A.

③ Trace deux droites (a) et (b).
Trace une droite parallèle à la droite (a) et une droite parallèle à la droite (b).
Place un point M sur la droite (b).
Trace une droite perpendiculaire à la droite (b) passant par M.