

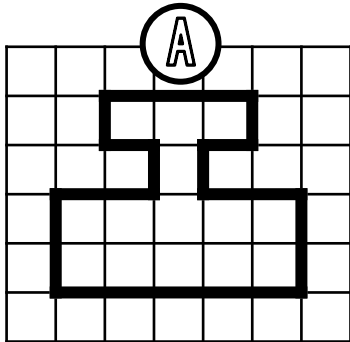


PRÉNOM : .....

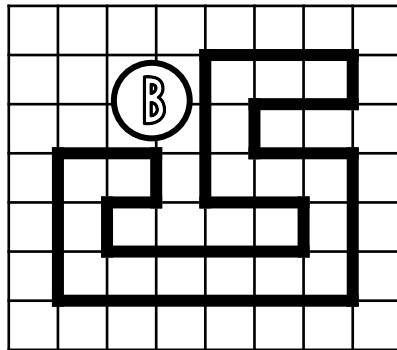


① Exprime l'aire de chaque surface avec l'unité choisie.

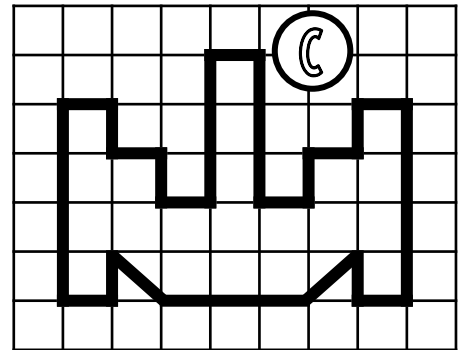
 unité 1



A = \_\_\_\_\_ unités d'aire

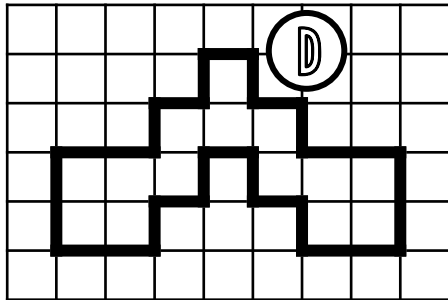


B = \_\_\_\_\_ unités d'aire



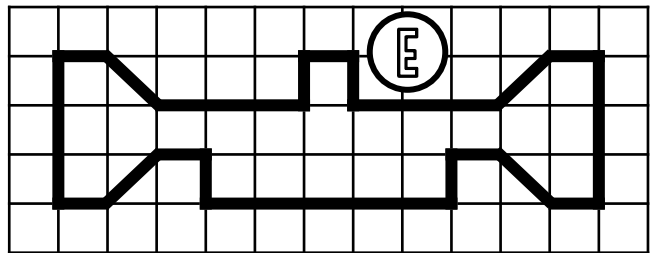
C = \_\_\_\_\_ unités d'aire

 unité 2



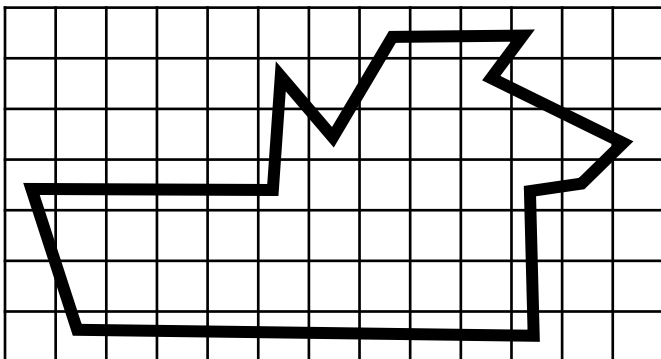
D = \_\_\_\_\_ unités d'aire

 unité 3



E = \_\_\_\_\_ unités d'aire

② Estime l'aire de cette surface.



L'aire de cette surface est comprise entre \_\_\_\_\_ carreaux et \_\_\_\_\_ carreaux.

③ Dessine 3 figures qui auront une aire de 15 unités A mais pas la même forme.

 unité A

④ Dessine 2 figures qui auront une aire de 10 unités B mais pas la même forme.

 unité B