

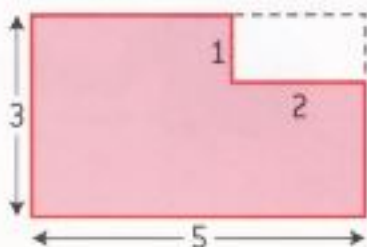
Six agriculteurs ont chacun un champ de forme compliquée inscrit dans un rectangle de 500 m sur 300 m.

Ils veulent entourer leur champ d'une clôture et chacun pense que son champ a le plus grand périmètre.

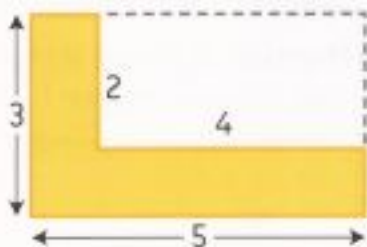
• Range les champs en fonction de leur périmètre.

Sur les plans, tous les angles sont des angles droits, et les mesures sont indiquées en centaines de mètres (1 signifie « 100 m »).

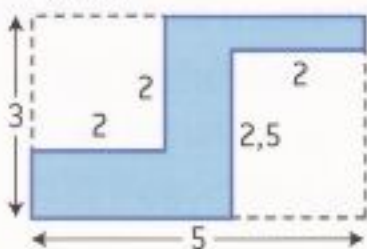
Avoine



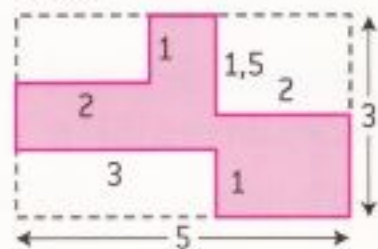
Bouton d'or



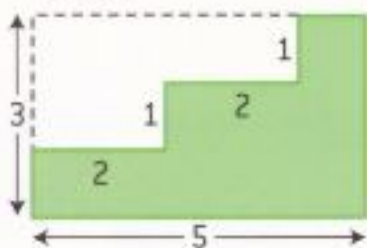
Carotte



Dahlia



Escalier



Figue

